

Formative Assessment - 2

Class: 5th






Subject: గణితం

	I	II	III	IV	Total
Marks					
Grade					

విద్యార్థి పేరు:

క్రమసంఖ్య:


I. కాసింపేట ప్రాథమిక పాఠశాలలో తరగతి వారీగా విద్యార్థుల సంఖ్య కింది పట్టికలో ఇవ్వబడింది. $\text{stick figure} = 5$ గురు విద్యార్థులు




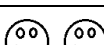
తరగతి	తరగతిలోని పిల్లల సంఖ్య	పిల్లల సంఖ్య
I		
II		
III		
IV		
V		


II. కింది ఖాళీలు పూరించండి.

- 1) 12 కి.మీ. = మీ.
- 2) 14 కి.మీ. =మీ.
- 3) 12 కి.మీ. =మీ
- 4) 2 కి.మీ. 400 మీ. =మీ.
- 5) 4500 మీ. =కి.మీ.మీ.

పాఠశాలలో మొత్తం ఎంత మంది విద్యార్థులున్నారు?

III. అబ్బాపూర్ గ్రామ పంచాయితీ పరిధిలో 4 ఆవాస ప్రాంతాలు ఉన్నాయి. 5 సం. లోపు పిల్లల సంఖ్య ఎక్కువగా ఉన్నందున ఆరోగ్య కార్యకర్త పోలియో చుక్కల మందు వేయించుకున్న ప్రతి ముగ్గురు పిల్లల సంఖ్యను ఈ విధంగా  ముఖం ద్వారా చూచించి పట్టికలో నమోదు చేసింది.

ఆవాస ప్రాంతం	పోలియో చుక్కల మందు వేయించుకున్న పిల్లల సంఖ్య	పిల్లల సంఖ్య
అబ్బాపూర్		
బాణాలపల్లి		
శ్రీరాములపల్లి		
రామచంద్రనిపల్లి		

 = 3 పిల్లలు

మొత్తం గ్రామపంచాయితీ పరిధిలో ఎంత మంది పిల్లలు పోలియో చుక్కల మందు వేయించుకున్నారు?

IV. కింది సమస్యలకు జవాబులు రాయండి.

- 1) ఒక కోటు కుట్టడానికి ఒక దట్టి 3మీ. 10సెం.మీ. బట్ట వాడతారు. అలాంటివి 4 కోటులను కుట్టడానికి ఎంత బట్ట అవసరం ?

- 2) సనా ఇంటి నుండి బడికి చేరడానికి రమీజా ఇంటి గుండా వెళ్ళవలసి ఉంటుంది. సనా ఇంటికి, బడికి మధ్య దూరం 2కి.మీ 345మీ. రమీజా ఇంటికి, బడికి మధ్య దూరం 1కి.మీ. 650మీ. సనా, రమీజా ఇళ్ళ మధ్య దూరం ఎంత?