

# Primary School, .....

## Formative Assessment - 4

Class: 5<sup>th</sup>

Subject: గణితం

	I	II	III	IV	Total
Marks					
Grade					

విద్యార్థి పేరు: .....

క్రమసంఖ్య: .....

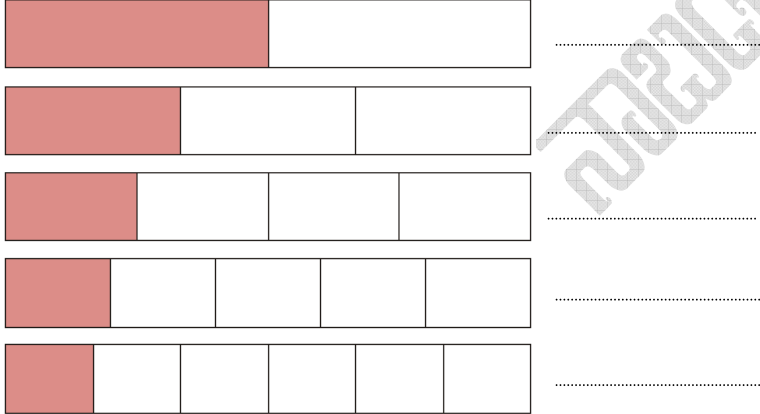
I. ఈ కింది సంఖ్యలలో ఏవి 2 చే నిశ్చేషంగా భాగింపబడతాయో వానికి '○' చుట్టండి

49                  96                  112  
 153                190                272  
 297                308                529  
 666                780                981  
 995


II. కింది వాటికి కారణంకాలు రాయండి.

14 కి గల కారణంకాలు = .....  
 24 కి గల కారణంకాలు = .....  
 16 కి గల కారణంకాలు = .....  
 42 కి గల కారణంకాలు = .....  
 12 కి గల కారణంకాలు = .....

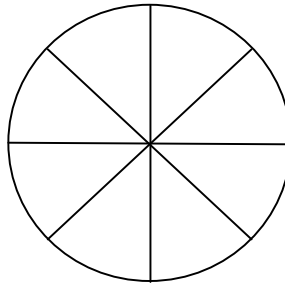
III. కింది వాటిలో రంగువేసిన భాగాలకు భిన్నాలు రాయండి.



IV. పటం కింద సూచించబడిన భిన్నానికి పటంలో రంగు వేయండి.



$$\frac{4}{9}$$



$$\frac{5}{8}$$